

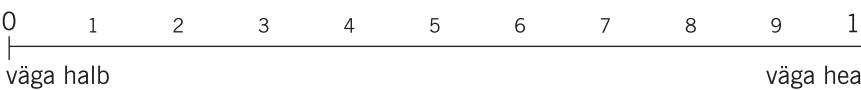
Kuupäev _____

☺ Nimi _____

☁ Ilm

Temperatuur _____ Tuule suund _____ Tuule tugevus _____

Pilvisus _____ Sademed _____

Nähtavus  0 1 2 3 4 5 6 7 8 9 10
väga halb väga hea

☁ Vaatetorn

Asukoht _____ Kõrgus _____ Kõrgus merepinnast * _____

Torni iseloomustus _____

* Andmete olemasolul

☁ Maastikuvaatlus torni jalamil ①; torni tipus ②

<p>☁ Maastiku värvid ①</p>	<p>☁ Maastiku helid: Loodushääled ①</p>	<p>☁ Maastiku lõhn ①</p>	<p>☁ Maastiku iseloomustus (viis omadussõna) ①</p>
<p>②</p>	<p>Inimtegevuse hääled ①</p>	<p>②</p>	<p>②</p>

☁ Määrake ilmakaared võrreldes piirkonna kaarti ja tornist avanevat vaadet. Kontrollige kompassi abil. Märkige joonisele 9 silmapaistvat ümbruskonna objekti. Arvestage ilmakaari ja objekti kaugust tornist.

Põhi


Lääs

Ida




Lõuna



 Koostage hinnanguline sektordiagramm, mis näitab, kui palju paisatab vaatetornist:

- avamaastikku
- okaspuumetsa
- lehtpuumetsa
- veekogusid
- _____


tingmärk*




*Mõelge ise välja tingmärgid.

 Milliseid loodusmaastiku objekte näed?

- oos
- voor
- mõhn
- luide
- tasandik
- jõeorg
- kungas
- järv
- meri
- rändrahn
- toonekure pesa
- saar
- põlispuu
- soo
- _____

 Milliseid inimese rajatud objekte märkad maastikul?

- kivilalme
- kiviaed
- mälestusmärk
- varemed
- koolimaja
- elumaja
- park
- elektriliin
- karjäär
- kraav
- maantee
- sild
- _____

 Kirjutage 1–3 märksõna, milline oli/on see vaade:

12 000 aastat tagasi	6000 aastat tagasi	3000 aastat tagasi	100 aastat tagasi	100 aasta pärast

 Kõige erilisem kogemus vaatetornist:

